

## Оценочные материалы для проведения промежуточной аттестации по итогам учебного года

*Предмет:* география

*Класс:* 5

*Время проведения:* 40 минут

*Форма проведения:* тест

*Критерии оценивания:*

% выполнения заданий	Тестовый балл	Аттестационная отметка
85%-100%	17-20	«5» («отлично»)
65%-84%	13-16	«4» («хорошо»)
40%-64%	8-12	«3» («удовлетворительно»)
Менее 40%	Менее	«неудовлетворительно» (задание не выполнено)

### Инструкция для учащихся

На выполнение работы Вам отводится 40 минут.

Работа включает 15 заданий. 12 заданий с выбором одного ответа. 1 задание с множественным выбором, 1 задание с кратким ответом, 2 задания на установление соответствия (нужно подобрать к цифре букву).

Советуем выполнять задания в том порядке, в котором они даны. Для экономии времени пропускайте задание, которое не удастся выполнить сразу, и переходите к следующему. Если после выполнения всей работы у вас останется время, то можно вернуться к пропущенным заданиям.

Ответы заносите в специальные бланки. За каждый верный ответ Вы получите 1 балл. Всего за работу можно набрать 20 баллов.

Баллы, полученные Вами за все выполненные задания, суммируются. Постарайтесь выполнить как можно больше заданий и набрать как можно большее количество баллов.

### 1 вариант

1. Твёрдая (каменная) оболочка Земли это:

а) гидросфера; б) литосфера; в) атмосфера; г) биосфера

2. Установите соответствие:

событие

имя

а) первое кругосветное плавание

1) Марко Поло

б) первое достижение европейцем Китая

2) Ф. Магеллан

в) открыли Антарктиду

3) Ф.Ф. Беллинсгаузен, М.П. Лазарев

3. Условная линия на географической карте, разделяющая Землю на Западное и Восточное полушария, это:

а) северный тропик; б) южный тропик; в) нулевой меридиан; г) экватор

4. Выберите дни равноденствия:

а) 22 июня; б) 21 марта; в) 22 декабря; г) 23 сентября

5. Направление на «юг» соответствует азимуту:

а) 0°; б) 180°; в) 270°; г) 90°

6. Если численный масштаб 1: 2 000 000, то именованный будет:

а) в 1 см 20 км; б) в 1 см 2 км; в) в 1 см 200 м; г) в 1 см 200 км

7. Направление «запад - восток» указывает:

а) меридиан; б) параллель

8. От нулевого меридиана отсчитывается:

а) северная и южная долгота; в) северная и южная широта;  
б) западная и восточная широта; г) западная и восточная долгота

9. Океаническая земная кора имеет в своём строении:

а) базальтовый и гранитный слои; в) гранитный и осадочный слои;  
б) осадочный, гранитный и базальтовый слои; г) осадочный и базальтовый слои

10. Горные породы, образовавшиеся из расплавленной магмы, называют:

а) метаморфическими; б) магматическими; в) осадочными

11. Установите соответствие:

материк

а) Южная Америка

б) Евразия

в) Северная Америка

равнины, низменности

1) Амазонская

2) Миссисипская

3) Восточно-Европейская



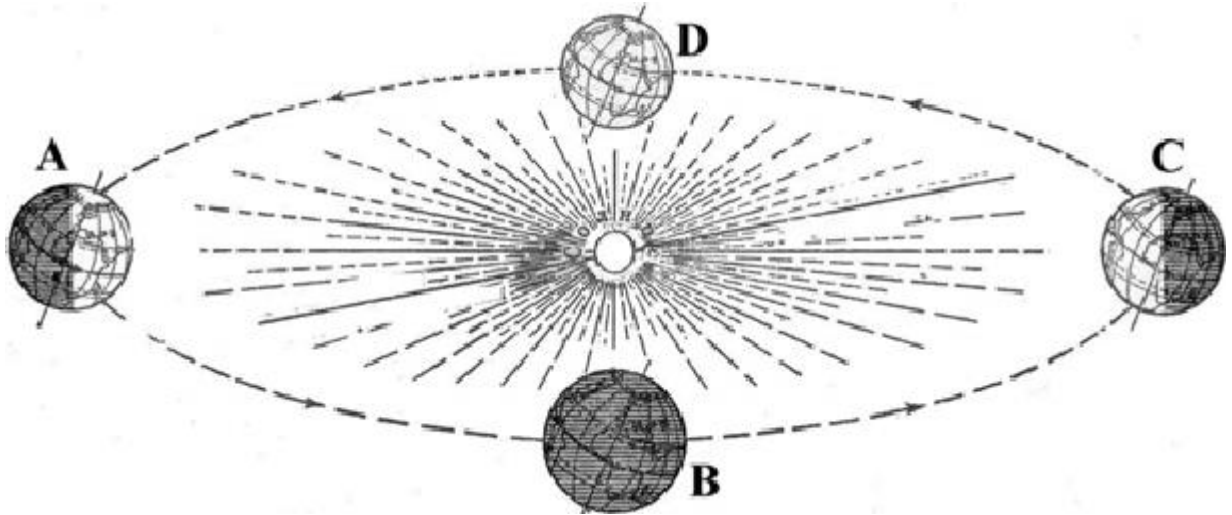
12. Какие географические координаты имеет точка, обозначенная на карте Африки

буквой А?

- а)  $20^{\circ}$  ю.ш.,  $10^{\circ}$  з.д.; б)  $10^{\circ}$  ю.ш.,  $20^{\circ}$  з.д.;  
в)  $20^{\circ}$  ю.ш.,  $10^{\circ}$  в.д.; г)  $10^{\circ}$  ю.ш.,  $20^{\circ}$  в.д.

13. В каком положении относительно Солнца находится Земля, когда в Северном полушарии самый продолжительный световой день в году?

- а) В; б) С; в) D; г) А



14. Следствие осевого движения Земли \_\_\_\_\_ .

15. Самая высокая горная вершина на суше:

- а) Эльбрус; б) Эверест; в) Монблан; г) Аконкагуа

#### Инструкция для учащихся

На выполнение работы Вам отводится 40 минут.

Работа включает 15 заданий. 12 заданий с выбором одного ответа. 1 задание с множественным выбором, 1 задание с кратким ответом, 2 задания на установление соответствия (нужно подобрать к цифре букву).

Советуем выполнять задания в том порядке, в котором они даны. Для экономии времени пропускайте задание, которое не удастся выполнить сразу, и переходите к следующему. Если после выполнения всей работы у вас останется время, то можно вернуться к пропущенным заданиям.

Ответы заносите в специальные бланки. За каждый верный ответ Вы получите 1 балл. Всего за работу можно набрать 20 баллов.

Баллы, полученные Вами за все выполненные задания, суммируются. Постарайтесь выполнить как можно больше заданий и набрать как можно большее количество баллов.

#### 2 вариант

1. Водная оболочка Земли это:

- а) гидросфера; б) литосфера; в) атмосфера; г) биосфера

2. Установите соответствие:

Событие	имя
а) путешествие из России в Индию	1) Ф. Магеллан
б) совершил первое кругосветное путешествие	2) Х. Колумб
в) открыл Америку	3) А. Никитин

3. Воображаемая прямая, проходящая через центр Земли, вокруг которой вращается Земля, называется:

а) орбитой; б) эллипсом; в) осью

4. Выберите дни солнцестояния:

а) 22 июня; б) 21 марта; в) 22 декабря; г) 23 сентября

5. Направление на «запад» соответствует азимуту:

а) 0°; б) 180°; в) 270°; г) 90°

6. Если именованный масштаб в 1 см – 10 км, то численный будет:

а) 1 : 100; б) 1 : 1 000 000; в) 1 : 100 000; г) 1 : 10 000

7. Направление «север – юг» указывает:

а) экватор; б) меридиан; в) параллель

8. От экватора отсчитывается:

а) северная и южная долгота; в) северная и южная широта;

б) западная и восточная широта; г) западная и восточная долгота

9. Материковая земная кора имеет в своём строении:

а) базальтовый и гранитный слои; в) гранитный и осадочный слои;

б) осадочный, гранитный и базальтовый слои; г) осадочный и базальтовый слои

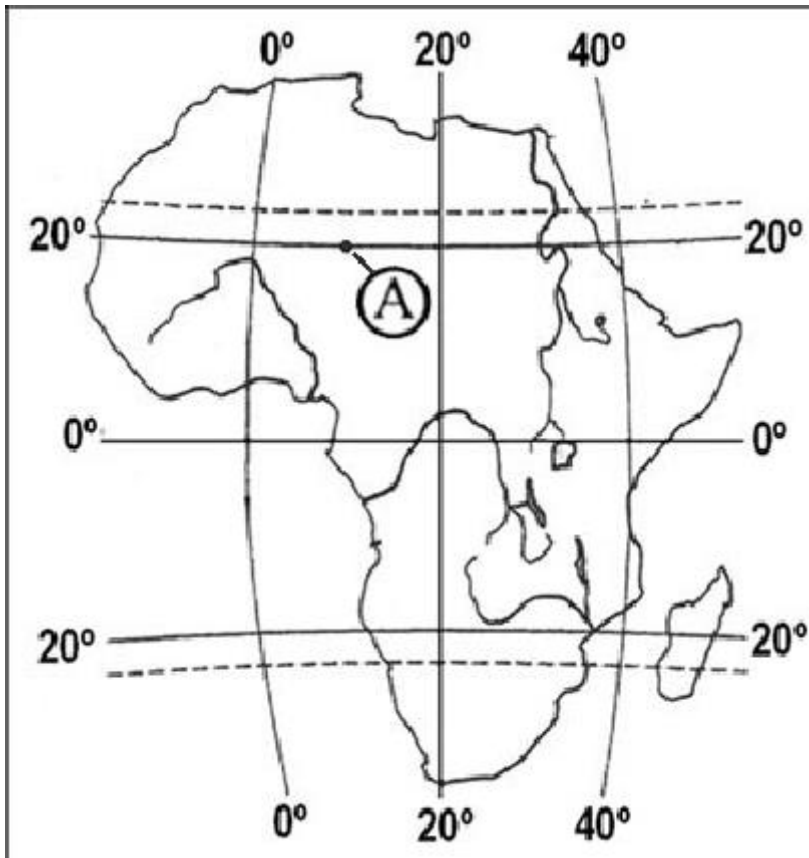
10. Осадочные горные породы бывают:

а) обломочные; б) глубинные; в) излившиеся

11. Установите соответствие:

Материк	горная система
а) Южная Америка	1) Гималаи
б) Евразия	2) Кордильеры
в) Северная Америка	3) Анды

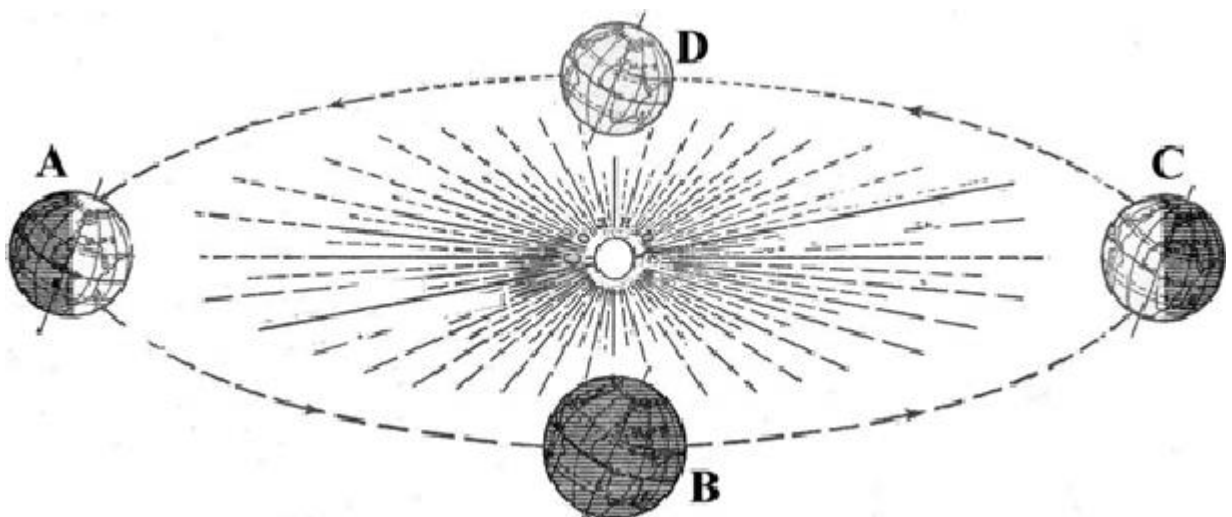
12. Какие географические координаты имеет точка, обозначенная на карте Африки буквой А?



- а) 20°с.ш.,10°в.д.; б) 10°ю.ш.,20°з.д.;  
 в) 20°ю.ш.,10°в.д.; г) 10°ю.ш.,20°в.д.

13. В каком положении относительно Солнца находится Земля, когда в Северном полушарии самый короткий световой день в году?

- а) В; б) С; в) D; г) А



14. Следствие орбитального движения Земли \_\_\_\_\_ .

15. Самые протяженные горы на суше:

- а) Уральские; б) Скандинавские; в) Анды; г) Гималаи

Бланк для ответов

Итоговый тест по географии (вариант)	
Ф.И.	Класс
№ вопроса	ответ
1	
2	
3	
4	
5	
6	
7	
8	
9	
10	
11	
12	
13	
14	
15	

Ответы

Итоговый тест по географии	
1 вариант	2 вариант
1) б (литосфера)	1) а (гидросфера)
2) а-2, б-1, в-3	2) а-3, б-1, в-2
3) в (нулевой меридиан)	3) в (осью)
4) б, г (21 марта и 23 сентября)	4) а, в (22 июня и 22 декабря)
5) б (180°)	5) в (270°)
6) а (в 1см 20 км)	6) б (1: 1000000)
7) б (параллель)	7) б (меридиан)
8) г (западная и восточная долгота)	8) в (северная и южная широта)
9) г (осадочный и базальтовый слои)	9) б (осадочный, гранитный и базальтовый слои)
10) б (магматические)	10) а (обломочные)
11) а-1, б-3, в-2	11) а-3, б-1, в-2
12) г (10°ю.ш., 20°в.д.)	12) а (20°с.ш., 10°в.д.)
13) б (С)	13) г (А)
14) смена дня и ночи	14) смена времен года

15) б (Эверест)

15) в (Анды)

## Оценочные материалы для проведения промежуточной аттестации по итогам учебного года

*Предмет:* география

*Класс:* 6

*Время проведения:* 40 минут

*Форма проведения:* тест

*Критерии оценивания:*

% выполнения заданий	Тестовый балл	Аттестационная отметка
85%-100%	16-18	«5» («отлично»)
65%-84%	12-15	«4» («хорошо»)
40%-64%	8-11	«3» («удовлетворительно»)
Менее 40%	Менее	«неудовлетворительно» (задание не выполнено)

### В- 2.

**Часть А.** Выберите **один** правильный ответ.

1. Из чего состоит водная оболочка Земли – гидросфера?

А) из вод суши и Мирового океана; Б) из вод суши, Мирового океана и воды в атмосфере;

В) из рек, озер, морей, болот, прудов; Г) только из вод суши

2. Как называется непрерывный процесс перемещения воды из Мирового океана на сушу и обратно?

А) Мировой океан; Б) течения; В) водное сообщество; Г) Мировой круговорот воды

3. Какой океан считается самым большим по площади?

А) Индийский; Б) Тихий; В) Атлантический; Г) Северный Ледовитый

4. Что является нижней границей атмосферы?

А) земная поверхность; Б) уровень Мирового океана; В) верхняя граница мантии;

Г) верхняя граница тропосферы

5. Какое из утверждений характеризует причину возникновения ветра?

А) Направление ветра определяют с помощью флюгера; Б) ветер дует из области с повышенным давлением в область с пониженным давлением; В) скорость ветра измеряется в метрах в секунду; Г) силу ветра измеряют в баллах.

6. К климатообразующим факторам не относится:

А) географическая широта; Б) преобладающий тип растительности;

В) господствующие ветры; Г) близость к океану.

7. Наибольшая концентрация живого вещества наблюдается:

А) на стыке атмосферы, гидросферы и литосферы; Б) в нижних слоях гидросферы;  
В) в верхних слоях атмосферы; Г) в литосфере на глубине 200 м

8. Разнообразие растительного и животного мира увеличивается:

А) от экватора к полюсам; Б) от полюсов к экватору; В) не изменяется от экватора к полюсам.

9. Раса являющаяся самой многочисленной:

А) негроидная; Б) европеоидная; В) монголоидная; Г) австралоидная

10. К свойствам географической оболочки не относят:

А) зональность; Б) неизменность; В) целостность; Г) ритмичность

11. Распределите почвы по степени уменьшения их плодородия: (запишите буквы в порядке от более плодородной к менее плодородной):

А) подзолистые и дерново-подзолистые; Б) арктические и тундровые;  
В) черноземные и каштановые; Г) серые и бурые лесные

12. К антропогенным природным комплексам не относят:

А) пашню; Б) карьер; В) лесополосу; Г) высокогорный ледник

### **Часть В (работа по картам атласа)**

1. Выберите из перечисленных ниже морей те, которые принадлежат к Тихому океану (6):

А) Охотское, Б) Балтийское, В) Японское, Г) Средиземное, Д) Берингово, Е) Аравийское, Ж) Желтое, З) Лаптевых, И) Коралловое, К) Черное, Л) Тасманово

2. Рассмотрите карту «Климатические пояса мира» и напишите названия климатических поясов, располагающихся на материках:

А) Африка; Б) Северная Америка

**Часть С.** А) По плану местности определите расстояние от школы до отдельно стоящего дерева (Масштаб в 1 см - 50 м). Б) Определите, в каком направлении от школы находится колодец.





**В- 1.**

**Часть А.** Выберите **один** правильный ответ.

1. Большую часть гидросферы составляют:  
А) воды Мирового океана; Б) воды суши; В) ледники; Г) подземные воды
2. Какой океан занимает второе место на Земле по площади?  
А) Атлантический; Б) Тихий; В) Индийский; Г) Северный Ледовитый
3. Что является причиной образования океанических течений?  
А) притяжение Луны; Б) штормовой ветер;  
В) постоянные ветры; Г) подводные землетрясения
4. Какой газ обеспечивает процессы дыхания и горения на Земле?  
А) кислород; Б) водород; В) азот; Г) углекислый газ
5. В каком слое атмосферы происходит изменение погоды?  
А) в мезосфере; Б) в стратосфере; В) в термосфере; Г) в тропосфере
6. Где на Земле четко выражены все четыре времени года?  
А) в арктических широтах; Б) в умеренных широтах;  
В) в тропических широтах Г) в экваториальных широтах.
7. Биосфера – это...

А) все живые организмы, живущие на Земле; Б) всё пространство на Земле и около неё, где обитают любые организмы; В) все растения, распространённые на Земле; Г) оболочка Земли, где распространены все организмы и неживое вещество, созданное или изменённое организмами

8. Наибольшая масса живого вещества характерна для:

А) арктических пустынь; Б) влажных экваториальных лесов; В) степей; Г) тайги

9. Наименьшая доля в численности населения Земли принадлежит:

А) негроидной расе; Б) европеоидной расе; В) монголоидной расе; Г) австралоидной расе

10. Природный комплекс – это устойчивое сочетание:

А) животных и растений; Б) рельефа и растений;  
В) всех компонентов природы; Г) почв и растений

11. Распределите почвы по степени увеличения их плодородия (запишите буквы в порядке от менее плодородной к более плодородной):

А) подзолистые и дерново-подзолистые; Б) арктические и тундровые;  
В) черноземные и каштановые; Г) серые и бурые лесные

12. Название природной зоны определяет характер:

А) животного мира; Б) почв; В) растительности; Г) хозяйственной деятельности человека

### **Часть В. (работа по картам атласа)**

1. Выберите из перечисленных ниже морей те, которые принадлежат к Атлантическому океану (6):

А) Карибское, Б) Балтийское, В) Японское, Г) Средиземное, Д) Берингово, Е) Аравийское,  
Ж) Саргассово, З) Лаптевых, И) Северное, К) Черное, Л) Тасманово.

2. Рассмотрите карту «Климатические пояса мира» и напишите названия климатических поясов, располагающихся на материках:

А) Австралия; Б) Евразия

**Часть С.** А) По плану местности определите расстояние от школы до колодца (Масштаб в 1 см-50 м). Б) Определите, в каком направлении от школы находится отдельно стоящее дерево.



**Ответы**

Итоговый тест по географии	
1 вариант	2 вариант
Часть А (по 1 баллу)	Часть А
1) А (воды Мирового океана)	1) Б (из вод суши, Мирового океана и воды в атмосфере)
2) А (Атлантический)	2) Г (Мировой круговорот воды)
3) В (постоянные ветры)	3) Б (Тихий)
4) А (кислород)	4) А (земная поверхность)
5) Г (в тропосфере)	5) Б (Ветер дует из области с повышенным давлением в область с пониженным давлением)
6) Б (в умеренных широтах)	6) Б (преобладающий тип растительности)
7) Г (оболочка Земли, где распространены все организмы и неживое вещество, созданное или изменённое организмами)	7) А (на стыке атмосферы, гидросферы и литосферы)
8) Б (влажных экваториальных лесов)	8) Б (от полюсов к экватору)
9) Г (австралоидной расе)	9) Б (европеоидная)
10) В (всех компонентов природы)	10) Б (неизменность)
11) Б, А, Г, В	11) В, Г, А, Б
12) В (растительности)	12) Г (высокогорный ледник)
Часть В (по 2 балла)	Часть В
1) А) Карибское, Б) Балтийское, Г) Средиземное, Ж) Саргассово,	1) А) Охотское, В) Японское, Д) Берингово, Ж) Желтое, И) Коралловое, Л) Тасманово

И) Северное, К) Черное	
2) А) Австралия ( субэкв, троп, субтроп) Б) Евразия (от аркт до экв)	2) А) Африка ( экв, субэкв, троп, субтроп) Б) Северная Америка (от арк до субэкв)
Часть С (2 балла) 15) А) 1см=50 м. Б) на юг	Часть С 15) А) 3 см =150 м Б) ЮЗ

## Оценочные материалы для проведения промежуточной аттестации по итогам учебного года

*Предмет:* география

*Класс:* 7

*Время проведения:* 40 минут

*Форма проведения:* тест

*Критерии оценивания:*

% выполнения заданий	Тестовый балл	Аттестационная отметка
85%-100%	17-20	«5» («отлично»)
65%-84%	13-16	«4» («хорошо»)
40%-64%	8-12	«3» («удовлетворительно»)
Менее 40%	Менее	«неудовлетворительно» (задание не выполнено)

### Вариант 1

1. Сколько лет существует планета Земля?

а) 8 млн. лет; б) 6 млрд. лет; в) 4,5 млрд. лет.

2. Самая протяженная горная цепь в мире – это:

а) Гималаи; б) Анды; в) Кордильеры.

3. Что образуется в тропосфере?

а) облака, дождь, снег, град, ветер; б) полярное сияние; в) серебристые облака.

4. Какую часть поверхности Земли занимает Мировой океан?

а) 3/4; б) 1/2; в) 2/3.

5. Определите окраинное море:

а) Балтийское; б) Баренцево; в) Красное.

6. Выберите теплое течение в Мировом океане:

а) Канарское; б) Куроисио; в) Перуанское.

7. Укажите острова расположенные в Тихом океане:

а) Сахалин, Новая Гвинея; б) Мадагаскар, Шри-Ланка; в) Исландия, Куба.

8. Какой материк ближе всего расположен к Антарктиде?

а) Австралия; б) Африка; в) Южная Америка.

9. Какие горы расположены на материке Африка:

- а) Пиренеи, Драконовы, Гималаи; б) Атлас, Капские, Драконовы;  
в) Альпы, Капские, Анды.

10. Определите самую южную пустыню материка Африка:

- а) Ливийская; б) Сахара; в) Калахари.

11. Для какой природной зоны Африки характерна многоярусность?

- а) экваториальные леса; б) тропические пустыни; в) саванны.

12. Укажите самое большое по площади озеро Африки?

- а) Чад; б) Ньяса; в) Виктория.

13. Нелетающая крупная птица Африки – это:

- а) Марабу; б) Страус; в) Нектарница.

14. Укажите растительность, характерную для Австралии:

- а) секвойя, лиственница, папоротник; б) пальма, акация, пихта;  
в) эвкалипт, травяное и бутылочное дерево.

15. Какой канал отделяет Южную Америку от Северной Америки?

- а) Панамский; б) Суэцкий; в) Кильский.

16. Кто открыл материк Южная Америка?

- а) А. Веспуччи; б) Х. Колумб; в) А. Гумбольд.

17. Как называется степь Южной Америки?

- а) Пампа; б) Сельва; в) Льянос.

18. Определите, водами, каких заливов омывается материк Северная Америка:

- а) Гудзонов, Мексиканский; б) Гвинейский, Бенгальский; в) Мексиканский, Бискайский.

19. Назовите коренную нацию Северной Америки:

- а) Американцы; б) Индейцы; в) Мексиканцы.

20. Укажите столицу Канады.

- а) Оттава; б) Монреаль; в) Квебек.

## Вариант 2

1. Сколько существует основных крупных литосферных плит Земли?

- а) 5; б) 6; в) 7.

2. Какая горная система отделяет Европу от Азии?

- а) Уральские горы; б) Кавказские горы; в) Горы Альпы.

3. Самый нижний от поверхности Земли слой атмосферы – это:

- а) Тропосфера; б) Стратосфера; в) Ионосфера.

4. Что является основным источником нагревания атмосферы?  
а) солнечные лучи, приходящие непосредственно в атмосферу;  
б) рассеянная радиация; в) тепловое излучение нагретой земной поверхности.
5. Какой процент гидросферы составляет Мировой океан?  
а) 96,5%            б) 70,5 %            в) 36 %
6. Определите внутреннее море:  
а) Аравийское;      б) Средиземное;      в) Охотское.
7. Выберите холодное течение в Мировом океане:  
а) Гольфстрим;      б) Лабрадорское;      в) Куроисио.
8. Укажите острова, омываемые водами Атлантического океана:  
а) Мадагаскар, Тасмания; б) Гренландия, Великобритания; в) Новая Гвинея, Шри-Ланка.
9. Определите вулкан, расположенный в Антарктиде:  
а) Котопахи;            б) Гекла;            в) Эребус.
10. Какие плоскогорья расположены на материке Африка?  
а) Декан, Бразильское; б) Аравийское, Тибетское; в) Эфиопское, Восточно-Африканское.
11. Укажите пустыню, по которой протекает река Нил:  
а) Сахара;            б) Ливийская;      в) Намиб.
12. Какой тип питания у большинства рек Африки?  
а) снеговое, дождевое; б) дождевое, грунтовое; в) грунтовое, ледниковое.
13. Самое быстроногое животное в Африке – это:  
а) зебра;            б) гепард;            в) лев.
14. Какие представители животного мира характерны для Австралии?  
а) носорог, зебра, крокодил; б) коала, кенгуру, ехидна; в) лев, жираф, страус.
15. Какими океанами омывается материк Южная Америка?  
а) Тихим и Атлантическим; б) Тихим и Индийским; в) Индийским и Атлантическим.
16. Какая самая полноводная река мира расположена в Южной Америке?  
а) Парана;      б) Амазонка;      в) Конго.
17. Как называют влажные экваториальные леса Южной Америки?  
а) Сельва;      б) Льянос;      в) Кампос.
18. От Евразии Северная Америка отделяется:  
а) Панамским каналом; б) Проливом Дрейка; в) Беринговым проливом.
19. Назовите коренную нацию Северной Америки:  
а) Канадцы;      б) Эскимосы;      в) Американцы.
20. Укажите столицу США:  
а) Чикаго      б) Нью-Йорк      в) Вашингтон

Ключи к тестам по географии – 7 класс (итоговый контроль)

Вариант 1		Вариант 2	
1 – в (4,5 млрд.лет)	11 – а (экваториальные леса)	1 – в (7)	11 – а (Сахара)
2 – б (Анды)	12 – в (Виктория)	2 – а (Уральские горы)	12 – б (дождевое, грунтовое)
3 – а (облака, дождь, снег, град, ветер)	13 – б (Страус)	3 – а (Тропосфера)	13 – б (гепард)
4 – в (2/3 или 3/4)	14 – в (эвкалипт, травяное и бутылочное дерево)	4 – в (тепловое излучение нагретой земной поверхности)	14 – б (коала, кенгуру, ехидна)
5 – б (Баренцево)	15 – а (Панамский)	5 – а (96,5%)	15 – а (Тихим и Атлантическим)
6 – б (Курисио)	16 – б (Х. Колумб)	6 – б (Средиземное)	16 – б (Амазонка)
7 – а (Сахалин, Новая Гвинея)	17 – а (Пампа)	7 – б (Лабрадорское)	17 – а (Сельва)
8 – в (Южная Америка)	18 – а (Гудзонов, Мексиканский)	8 – б (Гренландия, Великобритания)	18 – в (Беринговым проливом)
9 – б (Атлас, Капские, Драконовы)	19 – б (Индейцы)	9 – в (Эребус)	19 – б (Эскимосы)
10 – в (Калахари)	20 - а (Оттава)	10 - в Эфиопское, Восточно-Африканское)	20 – в (Вашингтон)

Оценочные материалы для проведения промежуточной аттестации по итогам учебного года

Предмет: *география*

Класс: 8

Время проведения: *40 минут*

Форма проведения: *тест*

Критерии оценивания:

% выполнения заданий	Тестовый балл	Аттестационная отметка
85%-100%	31-36	«5» («отлично»)
65%-84%	24-30	«4» («хорошо»)
40%-64%	15-23	«3» («удовлетворительно»)
Менее 40%	Менее 15	«неудовлетворительно» (задание не выполнено)

**Вариант 1.**

- Выберите верный ответ. Россия имеет морскую границу с:
  - Германией;
  - Японией;
  - Монголией;
  - Норвегией.

2. Выберите верные ответы. Россия граничит с:
  - а) Финляндией; б) Молдавией; в) Болгарией; г) Китаем.
3. Установите соответствие между крайними материковыми точками России и их положением по отношению к сторонам горизонта.
 

1. Мыс Дежнева	А. Северная.
2. Мыс Челюскин.	Б. Южная.
3. Гора Базардюзю.	В. Западная.
4. Балтийская коса.	Г. Восточная.
4. Выберите верный ответ. В России Новый год раньше встречают жители:
  - а) Владивостока; б) Москвы; в) Петропавловска-Камчатского.
5. Установите соответствие.
 

1. И. Москвитин.	А. Исследователь Камчатки.
2. В. Поярков.	Б. Вышел к берегам Охотского моря.
3. С. Дежнев.	В. Разведал путь из бассейна Лены на Зею.
4. С Крашенинников.	Г. Прошел проливом между Азией и Америкой.
6. Выберите верный ответ. Для естественного движения населения России характерно:
  - а) превышение смертности над рождаемостью;
  - б) превышение рождаемости над смертностью.
7. Выберите верный ответ. С начала 1990-х гг. численность населения Россия:
  - а) уменьшается;
  - б) увеличивается.
8. Выберите верный ответ. Более молодое население проживает:
  - а) в центральных районах России; б) в районах Крайнего Севера.
9. Выберите верный ответ. Населением в трудоспособном возрасте считаются:
  - а) все мужчины и женщины в возрасте от 16 до 59 лет;
  - б) мужчины в возрасте от 16 до 60 лет, женщины от 16 до 55 лет;
  - в) мужчины в возрасте от 21 до 65 лет, женщины от 18 до 60 лет.
10. Выберите верный ответ. Большинство россиян говорит на языках семьи:
  - а) кавказской; б) алтайской; в) индоевропейской.
11. Выберите верное значение средней плотности населения в России:
  - а) 1 чел./ кв. км; б) примерно 9 чел./ кв. км; в) 120 чел./ кв. км.
12. Выберите верный ответ. Самая древняя геологическая эра:
  - а) палеозойская; б) кайнозойская; в) протерозойская.
13. Выделите форму рельефа, формирование которой произошло в герцинскую эпоху складчатости:
  - а) Срединный хребет Камчатки; б) Восточный Саян; в) Урал
14. Выберите верный ответ. На территории России преобладают:
  - а) низкие горы; б) равнины; в) нагорья.
15. Выберите верный ответ. В районах платформ, где близко к поверхности расположен их фундамент, добывают:
  - а) нефть и природный газ; б) каменный уголь; в) металлические руды.
16. Общее количество радиации, достигающей поверхности Земли, называется:
  - а) солнечной радиацией; б) суммарной радиацией; в) рассеянной радиацией.
17. Выберите верные ответы. Теплый атмосферный фронт приносит:
  - а) ливни, грозы; б) затяжные дожди; в) временное потепление; г) ясную погоду.



18. Выберите верный ответ. Муссонный климат распространен :
- а) в большей части Восточно-Европейской равнины; б) в южной части Дальнего Востока; в) в Восточной Сибири.
19. Выберите верный ответ. Отношение годовой суммы осадков к величине испаряемости – это: а) коэффициент увлажнения; б) испарение; в) испаряемость.
20. Установите соответствие.
- |   |                  |
|---|------------------|
| 1. Количество воды, которое протекает за год. | А. Падение реки. |
| 2. Отношение падения реки к ее длине.         | Б. Годовой сток. |
| 3. Превышение истока над устьем, в метрах.    | В. Уклон реки.   |
21. Выберите верный ответ. В Европейской части страны находится угольный бассейн:
- а) Кузбасс; б) Печорский бассейн; в) Канско-Ачинский.
22. Выберите верный ответ. Россия занимает первое место в мире:
- а) по запасам каменного угля; б) природного газа; в) по производству стали.
23. Выберите верный ответ. Отрицательные стороны ГЭС: а) дороговизна строительства; б) использует невозобновимые природные ресурсы ; в) возможность затопления сельхозугодий, населенных пунктов.
24. Выберите верный ответ. К местам дешевой энергии и топлива тяготеет производство:
- а) алюминия; б) меди; в) никеля.
25. Выберите верный ответ. Центр тракторостроения размещается в:
- а) Новочеркасске; б) Челябинске; в) Ижевске.
26. Выберите верный ответ. Калийные удобрения производят в:
- а) Нижнекамске; б) Соликамске; в) Магнитогорске.
27. Выберите верный ответ. Ведущей отраслью растениеводства России является производство: а) овощей; б) зерновых культур; в) технических культур.
28. Выберите верный ответ. По объему перевозимых грузов и пассажиров лидирует:
- а) автомобильный транспорт; б) железнодорожный транспорт; в) трубопроводный.
29. Выберите верный ответ. Самым крупным портом Тихоокеанского бассейна является:
- а) Мурманск; б) Владивосток; г) Новороссийск.
30. Установите соответствие между природной зоной и типичными представителями ее животного мира:
- |            |                   |
|------------|-------------------|
| 1) тундра; | а) бурый медведь; |
| 2) тайга;  | б) суслик;        |
| 3) степь;  | в) песок.         |
31. Выберите верный ответ. К объектам Всемирного природного наследия относится:
- а) Полярный Урал; б) остров Врангеля; в) Остров Сахалин.
32. Определите, о каком этапе территориальной организации общества идет речь по описанию: Развитие промышленности влечет за собой рост городов, повышение уровня образования населения. Расширяется сектор услуг, развивается наука. Сельское население сокращается.
- Ответ: \_\_\_\_\_.

## Вариант 2.

1. Выберите верный ответ. Россия граничит с:  
а) Афганистаном; б) Узбекистаном; в) Болгарией; г) Польшей.
2. Выберите верные ответы. Морская граница между Россией и Японией проходит по проливу:  
а) Лаперуза; б) Кунаширскому; в) Татарскому; г) Берингову.
3. Установите соответствие между крайними точками России и их положением:  
1) Мыс Челюскин А. Кавказ.  
2) мыс Дежнева Б. полуостров Таймыр.  
3) Балтийская коса В. Берингов пролив.  
4) гора Базардюзю Г. Балтийское море.
4. Выберите верный ответ. Границы часовых поясов проводятся:  
а) вдоль параллелей; б) вдоль меридианов; в) независимо от географической сети.
5. Установите соответствие.  
1) Ермак. А. Прошел проливом между Азией и Америкой.  
2) Ерофей Хабаров. Б. Руководил походом русских в Сибирь.  
3) Иван Москвитин. В. Основал первые русские укрепления на Амуре.  
4) Семен Дежнев. Г. Вышел к берегам Охотского моря.
6. Выберите верный ответ. Разницу между общим числом родившихся и числом умерших за год называют:  
а) воспроизводством; б) миграцией; в) естественным приростом.
7. Выберите верный ответ. Численность населения России в настоящее время составляет:  
а) 200 млн. чел.; б) 100 млн. чел.; в) 147 млн. чел.; г) 150 млн. чел.
8. Выберите верный ответ. Более пожилое население проживает:  
а) в районах Крайнего Севера; б) в центральных районах России.
9. Выберите верное утверждение.  
а) высокий уровень безработицы наблюдается в районах нового освоения;  
б) район с высоким естественным приростом населения имеют высокий уровень безработицы;  
в) к трудовым ресурсам относят трудоспособное население в трудоспособном возрасте.
10. Выберите верный ответ.  
Самый крупный народ после русских в России:  
а) украинцы; б) татары; в) чувашаи.
11. Выберите территорию с максимальной плотностью населения в России:  
а) Центральный район; б) Дальний Восток; в) Крайний Север.
12. Выберите верный ответ. Геологическая эра, в которой мы живем:  
а) мезозойская; б) протерозойская; в) кайнозойская.
13. Выделите форму рельефа, формирование которой произошло в кайнозойскую эру:  
а) Тиманский кряж; б) Кавказ; в) Корякское нагорье.
14. Выберите верный ответ. Самые древние породы выходят на поверхность в районах распространения:  
а) щитов; б) плит; в) впадин.
15. Какое утверждение о полезных ископаемых России является верным?  
а) Нерудные полезные ископаемые чаще залегают в складчатых областях.  
б) Самые главные топливно-энергетические ресурсы – горючие сланцы и торф.  
в) Рудные полезные ископаемые приурочены к складчатым областям или фундаменту древних платформ.
16. Выберите верный ответ. При движении к экватору величина суммарной радиации:  
а) увеличивается; б) уменьшается; в) не изменяется.
17. Выберите верные ответы. Над территорией России перемещаются:  
а) арктические воздушные массы; б) воздух умеренных широт; в) экваториальный воздух.
18. Выберите верный ответ. Резко континентальный климат распространен на территории:  
а) Дальнего Востока;  
б) Восточной Сибири; в) Западной Сибири.
19. Выберите верный ответ. Отношение годовой суммы осадков к величине





- 2) Испания  
 5. Какой из перечисленных портов Северного морского пути является незамерзающим?  
 1) Мурманск  
 2) Диксон  
 4) Алжир  
 3) Хатанга  
 4) Тикси

**Задания 6, 7 выполняются с использованием приведённой ниже таблицы.**

**Демографические показатели отдельных регионов РФ в 2007 г.**

Регион	Общая численность населения, тыс. чел.	Рождаемость, ‰	Естественный прирост, ‰
Ивановская область	1088	9,0	-11,0
Республика Коми	975	11,1	-2,7
Республика Дагестан	2659	15,3	8,7
Новосибирская область	2670	10,6	0

6. Используя данные таблицы, определите, в каком из перечисленных регионов наблюдался наибольший естественный прирост.

- 1) Новосибирская область  
 2) Республика Дагестан  
 3) Ивановская область  
 4) Республика Коми

7. Используя данные таблицы, определите смертность населения в Ивановской области в 2007 г. в ‰. Ответ запишите в виде числа.

Ответ \_\_\_\_\_ ‰.

8. В каком из перечисленных регионов России средняя плотность населения наибольшая?

- 1) Чукотский АО  
 2) Нижегородская область  
 3) Ханты-Мансийский АО — Югра  
 4) Хабаровский край

9. Усиление «парникового эффекта» в настоящее время большинство учёных объясняют тем, что в атмосфере

- 1) уменьшается содержание озона  
 2) увеличивается содержание азота  
 3) увеличивается содержание углекислого газа  
 4) уменьшается содержание кислорода

10. В каком из высказываний содержится информация о миграции населения?

1) В России, так же как и в мире, городской образ жизни получает все большее распространение.

2) Количество людей, въезжающих в Россию на постоянное место жительства из других государств, постоянно увеличивается.

3) Западная и центральная части Европейской России наиболее плотно заселены и урбанизированы.

4) В России в течение 2008 г. родилось 1 713947 человек, умерло — 2 075954 человека.

11. Прочтите текст и ответьте на вопрос: мы проехали от Средиземного моря до побережья Бискайского залива. И вот, наконец, конечный пункт нашего путешествия — город Ла-Рошель. В нём расположен порт прогулочных яхт. По узким улочкам мы проехали туда. Был тёплый летний день. Дул лёгкий бриз. Водное пространство залива было заполнено яхтами.

В каком направлении дуют дневные бризы и почему они образуются на побережье океана? Укажите две причины.

Ответ запишите в бланке, указав сначала номер задания.

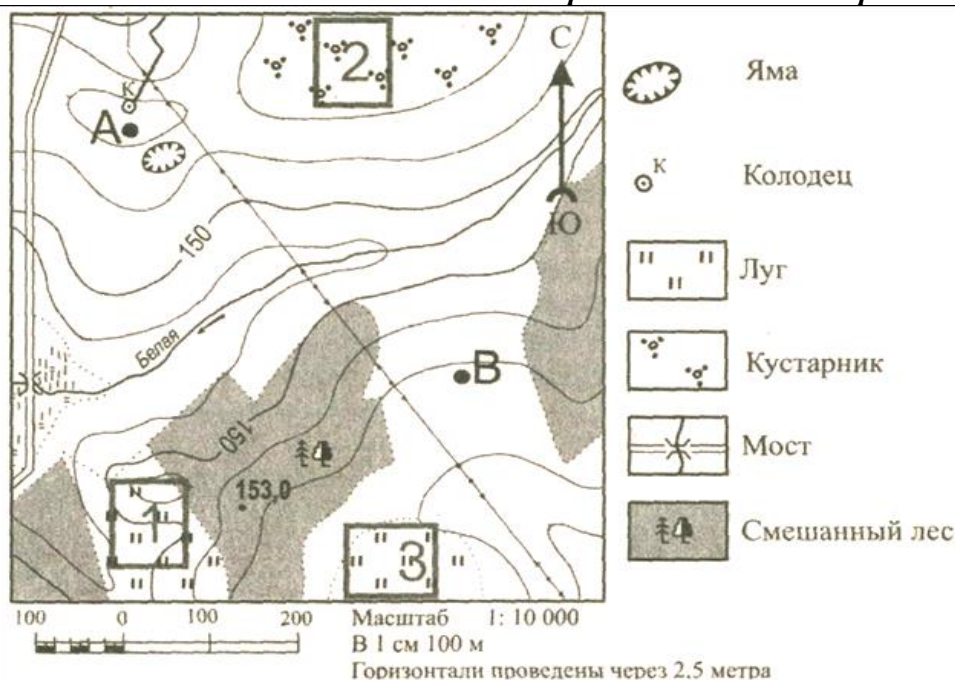
12. Расположите перечисленные города в порядке увеличения их численности населения. Запишите в бланк получившуюся последовательность букв.

- А) Кострома
- Б) Тольятти
- В) Нижний Новгород

13. Определите, какой город в России имеет географические координаты 72°с.ш. и 129°в.д.

Ответ: \_\_\_\_\_.

**Задания 14 - 15 выполняются с использованием приведённой ниже карты.**



14. Определите по карте расстояние на местности по прямой от отметки с высотой 153,0 до колодца. Измерение проводите между центрами условных знаков. Полученный результат округлите до десятков метров. Ответ запишите в виде числа.

Ответ: \_\_\_\_\_ м.

15. Определите по карте, в каком направлении от моста через реку Белая находится точка с высотой 153,0.

Ответ: \_\_\_\_\_.

**Задания 16, 17 выполняются с использованием приведённого ниже текста**

АО «Котласский ЦБК» — «Котласский целлюлозно-бумажный комбинат» (юг Архангельской области, город Коряжма) — крупнейшее в России предприятие по комплексной безотходной химической переработке древесины хвойных и лиственных пород. Котласский ЦБК вырабатывает более миллиона тонн целлюлозы разных видов, сотни тысяч тонн печатной и технической бумаги, картона, древесно-волоконистые плиты и другие виды продукции.

16. Картами какого экономического района России нужно воспользоваться для того, чтобы определить местоположение г. Коряжма?

- 1) Уральского
- 2) Северного
- 3) Западно-Сибирского
- 4) Дальневосточного

17. Объясните, какие две особенности Архангельской области, способствовали размещению в г. Коряжма целлюлозно-бумажного комбината. Ответ запишите в бланке, указав сначала номер задания.

18. Туристические фирмы разных регионов России разработали слоганы (рекламные лозунги) для привлечения туристов в свои регионы. Установите соответствия, соответствующие выбранным ответам.

РЕГИОН

СЛОГАН

- |                                    |   |
|------------------------------------|---|
| 1) Ямало-Ненецкий АО               | А) Здесь можно побывать в Долине гейзеров и увидеть действующие вулканы!  |
| 2) Камчатский край                 | Б) Окунитесь в полярную ночь, прокатитесь на собачьей и оленьей упряжках! |
| 3) Кабардино-Балкарская Республика |   |
| 4) Свердловская область            |   |

**19.** Расположите регионы России в той последовательности, в которой их жители встречают Новый год. Запишите в бланк получившуюся последовательность букв.

- А) Смоленская область
- Б) Чукотский АО
- В) Омская область

**20.** Определите регион России по его краткому описанию.

Республика расположена в Азиатской части страны. На юге граница совпадает с Государственной границей Российской Федерации. Республика богата полезными ископаемыми: здесь имеются крупные залежи свинцово-цинковых, молибденовых, вольфрамовых, урановых руд, а также месторождения угля и многих других полезных ископаемых. На территории Республики находится около 60% береговой линии самого глубокого пресноводного озера в мире.

Ответ: Республика \_\_\_\_\_.

**21.** Определите экономический район по набору характеристик:

- а) В состав района входят только области.
- б) Это индустриальное ядро России.
- в) Отраслями специализации являются точное и наукоемкое машиностроение, химическая и текстильная промышленности.

**22.** Определите экономический район по набору характеристик:

- а) Это район нефти, газа и угля.
- б) Значительная часть района заболочена.
- в) Распространен «вахтовый» метод работы.

**23.** Определите экономический район по набору характеристик:

- а) Это самый многонациональный район России.
- б) На юге района распложены горы.
- в) Большая часть населения живет в станицах и аулах.

**24.** Определите экономический район по набору характеристик:

- а) богатые минеральные ресурсы;
- б) металлургическая база - старейшая в стране;
- в) развито тяжелое машиностроение;
- г) основная проблема - экологическая.

**25.** Назовите термин: насильственное переселение народов, людей - это ...

**26.** Назовите термин: возвращение мигрантов на Родину - это ...

**27.** Назовите термин: рост и развитие пригородной зоны крупных городов - это ...

**28.** Назовите термин: группы близкорасположенных городов, объединенных тесными связями (трудовыми, культурно-бытовыми, производственными, инфраструктурными) - это ...

**29.** Назовите термин: производственные связи между предприятиями, выпускающими совместную продукцию - это ...

**30.** Назовите термин: вывоз товаров и услуг - это ...

**Итоговая контрольная работа по географии \_9 класс  
ВАРИАНТ 2.**

1. Численность населения какой из перечисленных стран наименьшая?
  - 1) Бразилия
  - 2) США
  - 3) Греция
  - 4) Индия
2. С каким из перечисленных государств Россия имеет сухопутную границу?
  - 1) Иран
  - 2) Швеция
  - 3) Болгария
  - 4) Грузия
3. В каком из перечисленных городов выпадает наибольшее количество атмосферных осадков?
  - 1) Омск
  - 2) Якутск
  - 3) Астрахань
  - 4) Калининград
4. В каком из перечисленных городов России имеется крупный центр переработки нефти?
  - 1) Новый Уренгой
  - 2) Омск
  - 3) Мурманск
  - 4) Сосногорск
5. В каком из перечисленных регионов России площади, занятые посевами льна, больше?
  - 1) Воронежская область
  - 2) Рязанская область
  - 3) Магаданская область
  - 4) Вологодская область

**Задания 6, 7 выполняются с использованием приведённой ниже таблицы.**

**Международная миграция**



6. Используя данные рисунка, определите, в каком из перечисленных годов в Россию на постоянное жительство въехало большее количество людей?
  - 1) 2001г.
  - 2) 2002г.
  - 3) 2007г.
  - 4) 2009г.
7. Используя данные рисунка, определите, миграционный прирост населения России в 2001 году (тыс. чел.). Ответ запишите в виде числа.  
 Ответ: \_\_\_\_\_ тыс. человек.
8. Определите, к традиционным занятиям, какого из перечисленных народов России относится оленеводство, охота, рыболовство?
  - 1) осетины
  - 2) кабардинцы
  - 3) калмыки
  - 4) манси
9. Примером негативного воздействия на состояние окружающей среды является:
  - 1) рекультивация терриконов



- 2) захоронение ядерных отходов в густозаселенной зоне
- 3) перевод ТЭС с угля на природный газ
- 4) широкое развитие транспорта на электрической тяге

10. В каком из следующих утверждений содержится информация о миграциях населения России?

- 1) На Крайнем Севере России проживает лишь 10 млн. человек.
- 2) Большинство городов России находится в пределах главной полосы расселения.
- 3) В начале 1990-х годов начался сильный отток населения с Дальнего Востока.
- 4) В возрастной структуре населения России возрастает доля лиц старших возрастов.

11. Прочтите текст и ответьте на вопрос: 26 апреля 1966 года в 5 часов 23 минуты по местному времени в Ташкенте произошло разрушительное землетрясение. Магнитуда его в очаге составила не более 5,2 балла по шкале Рихтера, но сейсмический эффект на земной поверхности в эпицентре превысил 8 баллов (по 12-балльной шкале сейсмической интенсивности). Разрыв пород в очаге простирался по глубине от 2-3 до 8-9 километров под самым центром столицы Узбекистана. Небольшое число пострадавших (8 погибших и несколько сот травмированных) в городе с миллионным населением обязано преобладанию вертикальных (а не горизонтальных) сейсмических колебаний, что предотвратило полный обвал даже ветхих глинобитных домов.

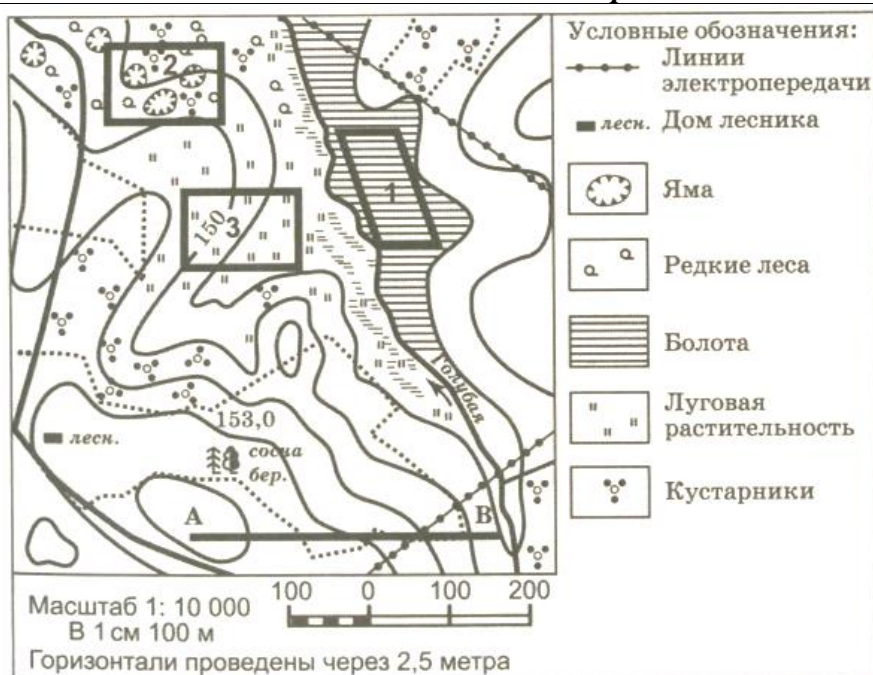
Почему в районе Узбекистана происходят землетрясения? Укажите две причины.

12. Расположите перечисленные ниже города в порядке увеличения в них численности населения. Запишите в бланк получившуюся последовательность букв.

- А) Санкт-Петербург
- Б) Брянск
- В) Новосибирск

13. Определите, какой город в России имеет географические координаты 63° с.ш. и 54° в.д.

**Задания 14 - 15 выполняются с использованием приведённой ниже карты.**



14. Определите по карте расстояние на местности по прямой от точки В до дома лесника. Измерение проводите между центрами условных знаков. Полученный результат округлите до десятков метров. Ответ запишите цифрами.

Ответ: \_\_\_\_\_ м.

15. Определите по карте, в каком направлении от домика лесника находится точка В. Ответ: \_\_\_\_\_.

**Задания 16, 17 выполняются с использованием приведённого ниже текста**

Решение о строительстве Новокемеровского химического комбината (Кемеровская область) было принято Советом народных комиссаров СССР в апреле 1945 года. В ноябре 1958 года вступила в эксплуатацию первая очередь цеха по производству азотной кислоты, в январе 1959-го вошел в строй цех аммиачной селитры. Период строительства и ввода в эксплуатацию новых мощностей предприятия в основном был завершен в 1978 году. Последующие годы вплоть до 1985-го были периодом коренной реконструкции и технического перевооружения. В марте 1993-го предприятие было преобразовано в акционерное общество «Азот». Это были нелегкие годы для страны, промышленность находилась в упадке. Только в июле 2000 года был осуществлен выход предприятия из банкротства. ОАО «Азот» — градообразующее предприятие. Мощнейший производственный комплекс выпускает более 40 наименований продукции. Почти 50 процентов продаж предприятия приходится на экспорт — в Китай, Америку, Западную Европу, страны Азиатско-Тихоокеанского региона.

**16.** Картами какого экономического района нужно воспользоваться для того, чтобы изучить территорию, на которой будет реализован названный в тексте проект?

- |                |                        |
|----------------|------------------------|
| 1) Северного   | 3) Восточно-Сибирского |
| 2) Поволжского | 4) Западно-Сибирского  |

**17.** Какие две особенности природно-ресурсной базы и хозяйства города Кемерово обусловили его выбор для размещения здесь производства азотных удобрений? Укажите две особенности природно-ресурсной базы и хозяйства. Ответ запишите в бланке, указав сначала номер задания.

**18.** Туристические фирмы разных регионов России разработали слоганы (рекламные лозунги) для привлечения туристов в свои регионы.

Установите соответствия, соответствующие выбранным ответам.

*РЕГИОН*

*СЛОГАН*

- |                          |   |
|--------------------------|---|
| 1) Пермский край         | А) Посети город оружия, самоваров и пряников          |
| 2) Республика Карелия    | Б) Выборг и Кронштадт - города военной истории России |
| 3) Тульская область      |   |
| 4) Ленинградская область |   |

**19.** Расположите регионы страны в той последовательности, в которой их жители встречают Новый год. Запишите в бланк получившуюся последовательность цифр.

- 1) Саратовская область
- 2) Курганская область
- 3) Кемеровская область

**20.** Определите регион России по его краткому описанию.

Территория этой области, расположенной на берегу моря, равнинная и низменная. В этническом составе преобладают русские, хотя в названиях географических объектов много немецких названий. Половина всего населения области сосредоточена в областном центре. Главные отрасли специализации — рыбная, машиностроительная и целлюлозно-бумажная. В перспективе морские порты области могут обслуживать потребности не только России, но и некоторых европейских стран. В области развита сеть курортов. Здесь создана открытая торговая зона.

Ответ: \_\_\_\_\_ область.

**21.** Определите экономический район по набору характеристик:

- а) на востоке района находятся месторождения угля, нефти и газа;
- б) имеются крупные запасы лесных ресурсов;
- в) на юге района - область, которая славится производством Масла;
- г) на северо-западе района находится незамерзающий порт.

**22.** Определите экономический район по набору характеристик:

- а) район отличается многонациональным составом населения;

- б) население размещается неравномерно;
- в) высокая плотность сельского населения;
- г) АПК и рекреационное хозяйство - ведущие отрасли хозяйства.

**23.** Определите экономический район по набору характеристик:

- а) Это самый маленький по площади район.
- б) Важнейшая отрасль специализации - машиностроение.
- в) Крупнейший город района - морской порт.

**24.** Определите экономический район по набору характеристик:

- а) На западе района ведется добыча руд, а на востоке - топлива (угля, нефти, газа).
- б) Коренное население района относится к финно-угорской группе.
- в) Здесь недавно начата добыча алмазов.

**25.** Назовите термин: резкое снижение численности в стране - это ...

**26.** Назовите термин: выезд из страны - это ...

**27.** Назовите термин: миграционная группа населения, вынужденная переселиться в другую страну или район в связи с военными, межнациональными, религиозными конфликтами - это ...

**28.** Назовите термин: рост городов, городского населения и городского образа жизни - это ...

**29.** Назовите термин: совокупность групп отраслей, выполняющих общую народнохозяйственную функцию - это ...

**30.** Назовите термин: соединение научных центров с наукоемкими предприятиями промышленности для внедрения научных достижений - это ...

## ОТВЕТЫ К ИТОГОВОЙ КОНТРОЛЬНОЙ РАБОТЕ\_9 класс

### Вариант 1

Задание	Ответ	Задание	Ответ
1-1б	4	16-1б	2
2-1б	3	17-2б	1. У сырья 2. В Архангельской области много <b>водных ресурсов.</b>
3-1б	4	18-1б	1 – Б 2 - А
4-1б	3	19-1б	БВА
5-1б	1	20-1б	Бурятия
6-1б	2	21-1б	Центральный
7-1б	20	22-1б	Западно-Сибирский
8-1б	2	23-1б	Северо-Кавказский
9-1б	3	24-1б	Уральский
10-1б	2	25-1б	депортация
11-3б	1. С океана на сушу. 2. Суша нагревается быстрее, чем океан, давление над ней	26-1б	реэмиграция

	ниже. Это причина образования бризов.		
	3. Разница в атмосферном давлении		
12-16	АБВ	27-16	субурбанизация
13-16	Тикси	28-16	агломерация
14-16	370	29-16	кооперирование
15-16	Юго-восток	30-16	экспорт
Максимальное количество баллов: 33 балла			

**Вариант 2**

<b>Задание</b>	<b>Ответ</b>	<b>Задание</b>	<b>Ответ</b>
1-16	3	16-16	4
2-16	4	17-26	1. У потребителя 2. У сырья (азотные удобрения из угля Кузбасса).
3-16	4	18-16	3 – А 4 - Б
4-16	2	19-16	321
5-16	4	20-16	Калининградская область
6-16	3	21-16	Северный
7-16	73	22-16	Северо-Кавказский
8-16	4	23-16	Северо-Западный
9-16	2	24-16	Северный
10-16	3	25-16	депопуляция
11-36	1. Граница плит. 2. Столкновение плит. 3. Сейсмический пояс (Альпийско-Гималайский)	26-16	эмиграция
12-16	БВА	27-16	беженцы
13-16	Ухта	28-16	урбанизация
14-16	400/410	29-16	межотраслевой комплекс
15-16	Юго-восток/ВЮ-В	30-16	технополис
Максимальное количество баллов: 33 балла			